

# CAPITULOS DE LA SEGUNDA GUERRA MUNDIAL



Teniente Coronel ALBERTO ANDRADE A.

## Introducción.

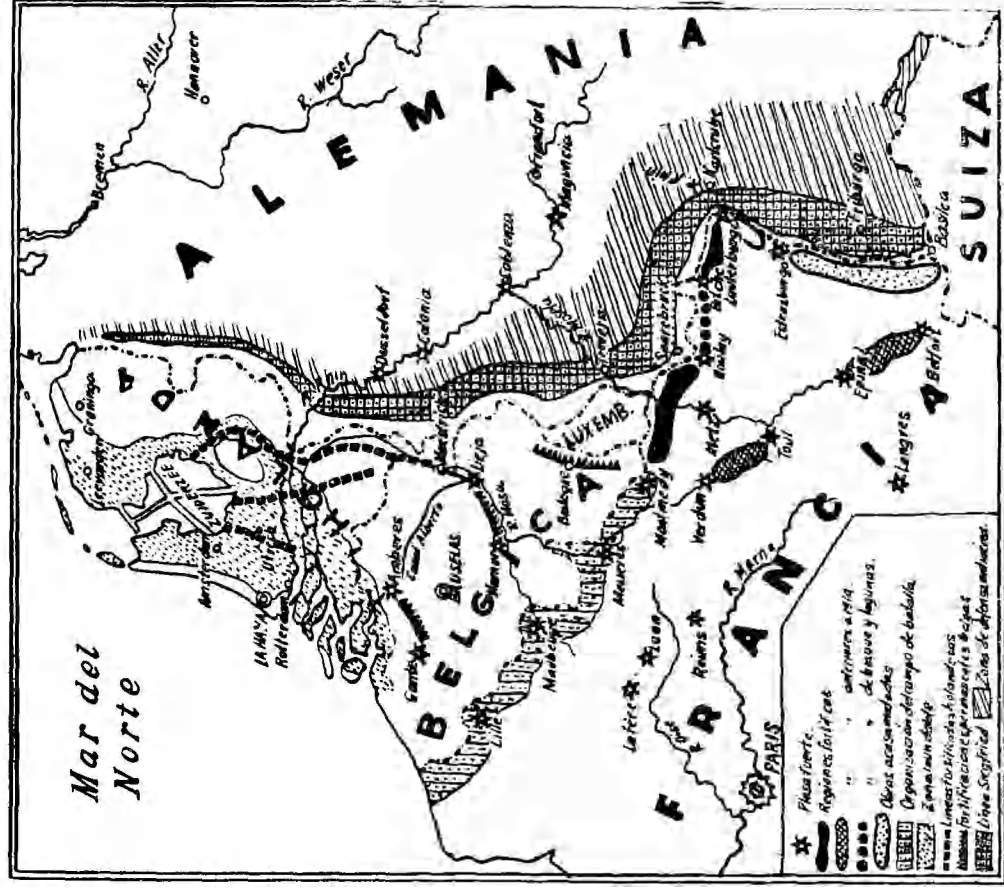
En la Revista Ejército N° 35 de febrero del corriente año el autor inició la publicación de una serie de cuestionarios relacionados con el programa de Historia Militar exigido por la Escuela Superior de Guerra para su examen de admisión.

Como se tiene conocimiento de que dicha Revista ha perdido transitoriamente su periodicidad, continuamos dicha publicación en las páginas de la Revista de las Fuerzas Armadas con la aclaración de que no se da aquí mismo la propuesta de solución a las preguntas por considerar que resulta más práctica y eficaz la consulta del

texto en referencia si los mismos interesados tratan de resolverlas con su lectura. Se incluyen, eso sí, numerosas ilustraciones gráficas para facilitar la comprensión de los conceptos y la fijación de los lugares y los hechos que sirven de marco a estos episodios de la Segunda Guerra Mundial.

Se repiten las instrucciones a los lectores publicadas en la primera entrega:

- 1º Lea en primer lugar el capítulo pertinente de la obra.
- 2º Consulte el cuestionario que aquí se le propone y trate de resolver las preguntas por su cuenta.
- 3º Revise los mapas y las ilustraciones que se incluyen.



Esquema de las regiones fortificadas del frente Occidental. Fortificaciones alemanas, francesas, belgas y holandesas.

# LA SEGUNDA GUERRA MUNDIAL

(Continuación)

## CAPITULO II

**Epoca de las campañas relámpago: Septiembre de 1939 - Noviembre de 1942.**

### CUESTIONARIO

#### Supresión de la Cortina Polaca

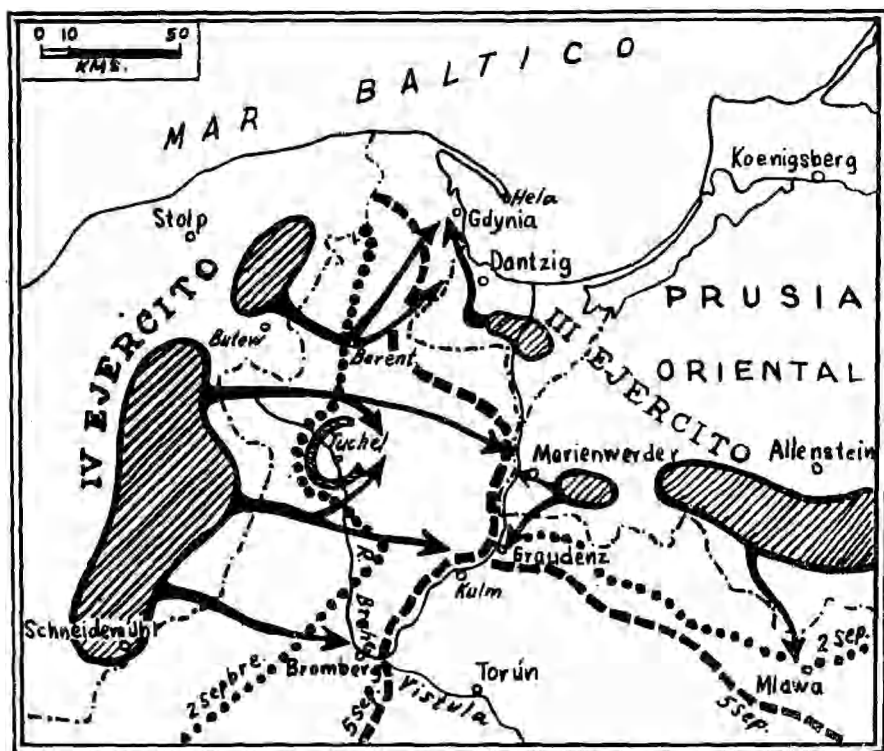
1. ¿En qué consiste el plan de guerra alemán?
2. ¿Cuál es la situación en el Este?
3. ¿Cuál es la situación en el Oeste?
4. ¿Cuáles son los potenciales demográficos de Polonia y Alemania?
5. ¿Cómo es la frontera Oeste polaca?
6. ¿Cómo se ha desarrollado la movilización polaca?
7. ¿Cómo la ataca su adversario?
8. ¿Cómo se presenta la inferioridad polaca en aviación y en blindados?
9. ¿Qué implicaciones tiene la concentración de la masa de manobra polaca en Posnania?
10. ¿Cómo se desarrolla la cronología de esta batalla?
11. ¿Cómo se hace el nuevo reparto de Polonia?
12. ¿Cuál es la conducta siguiente alemana en el Oeste?
13. ¿Cuál ha sido la actividad de Francia mientras tanto?
14. Elabore los gráficos que ilustran la batalla de Polonia.

**El intermedio finlandés y la aventura de Noruega: Noviembre 1939 - mayo 1940**

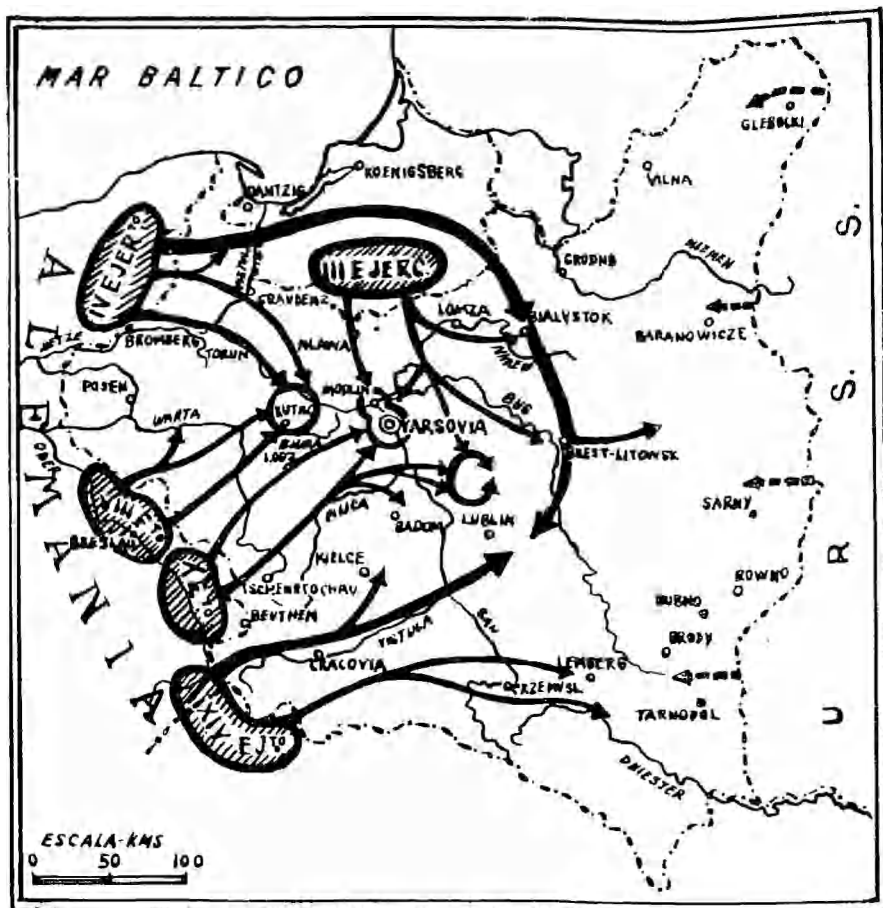
1. ¿Cuál es la conducta de Hitler una vez vencida Polonia?
2. ¿Qué circunstancias mantienen a Alemania en la inactividad durante meses?
3. ¿Qué buscan entre tanto los franco-ingleses?
4. ¿Qué les preocupa respecto a Italia y qué se propone en el Oriente?
5. ¿A qué se llama "drole de guerre"?
6. ¿Qué ocurre mientras tanto entre Finlandia, Rusia y los países Bálticos?
7. ¿Cómo actúa el ejército finlandés?
8. ¿Qué resulta de la apelación finlandesa ante la Sociedad de Naciones?
9. Los hechos a partir del 18 de febrero
10. ¿Cuál fue la actitud de Rusia como vencedora? Sus pérdidas.
11. ¿Cuál es la situación en Francia mientras tanto?
12. ¿Cuál es la actitud de los británicos frente a Noruega?
13. Conducta de los alemanes
14. Cronología de los acontecimientos.

#### Situaciones, planes y dispositivos de los adversarios en el Frente Occidental.

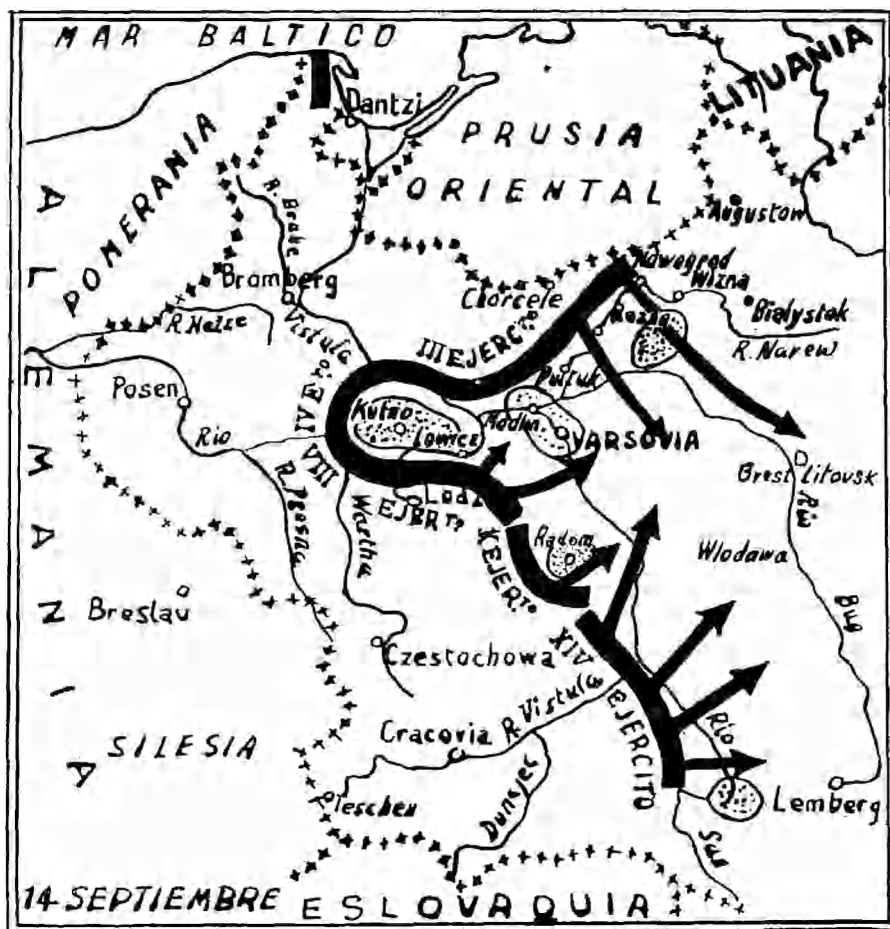
1. ¿Cuáles son las tropas enemigas que Hitler enfrenta en el Oeste?
2. ¿Cuál es la situación de Holanda



Esquema de las operaciones militares en el corredor de Dantzig.



Tras del cerco de los Ejércitos polacos al Oeste del Vistula, los alemanes realizan un amplísimo movimiento envolvente que culmina al establecer contacto las alas de los Grupos de Ejércitos del Norte y del Sur, en la región de Bug y del San. La batalla polaca ha terminado.

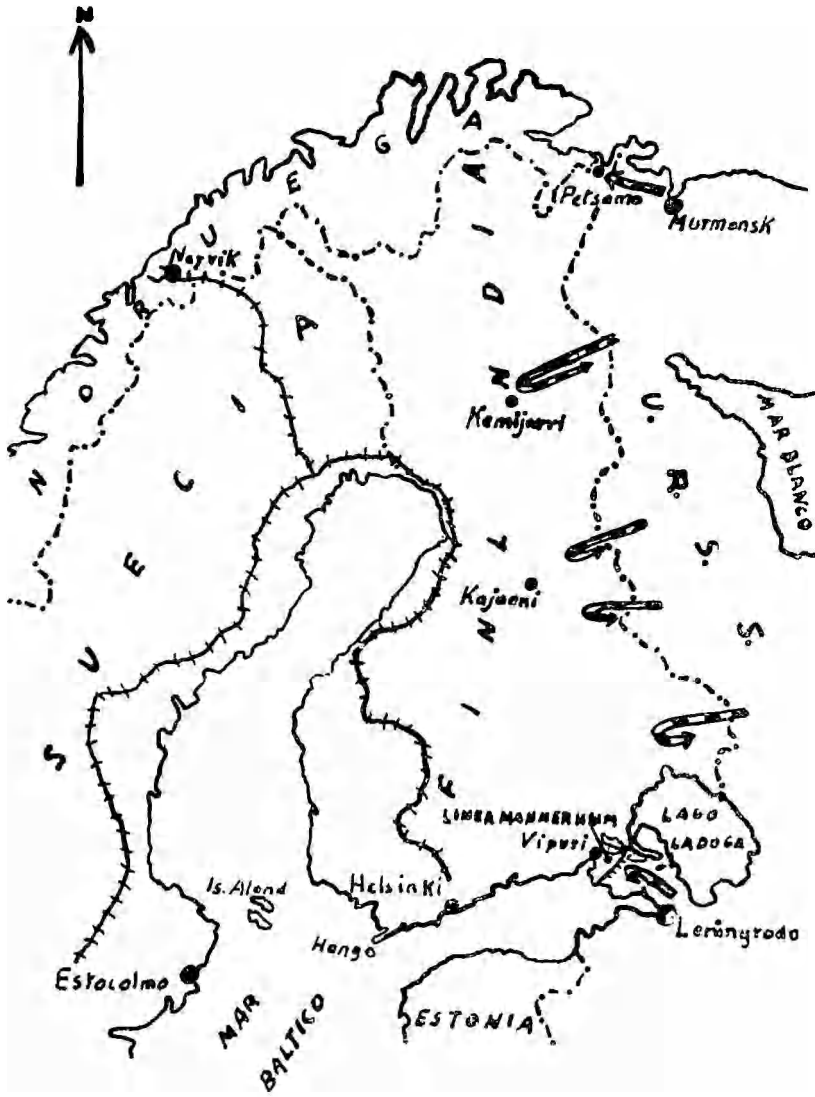


Situaciones del frente alemán a las dos semanas de haber comenzado la ofensiva sobre Polonia. Los principales núcleos del Ejército polaco están ya cercados y en vísperas de ser batidos totalmente.



La situación del frente Oriental el 18 de septiembre. La bolsa Bzura ha desaparecido. Los polacos luchan desesperadamente en torno de Varsovia y Modlin, últimos reductos de la resistencia.

EL ATAQUE SOVIETICO CONTRA FINLANDIA

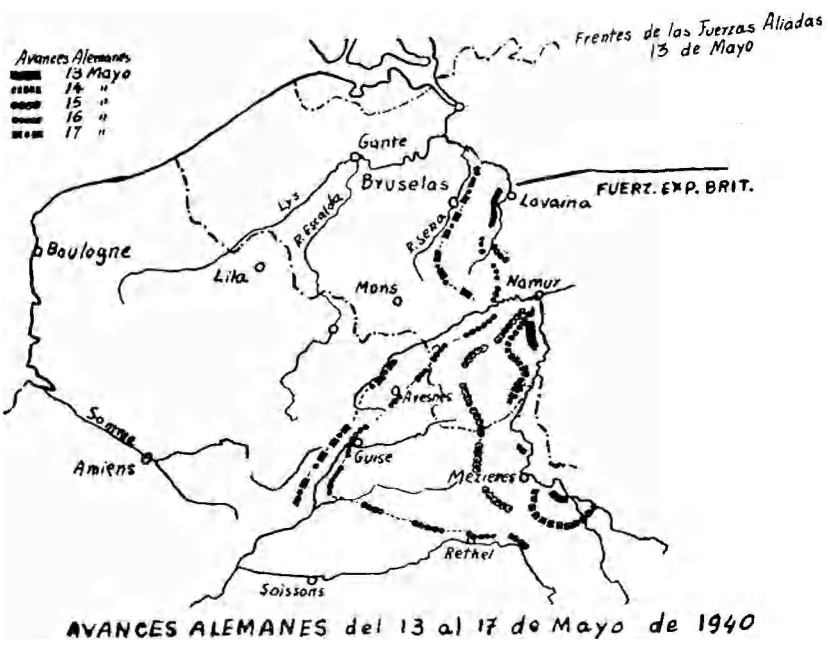


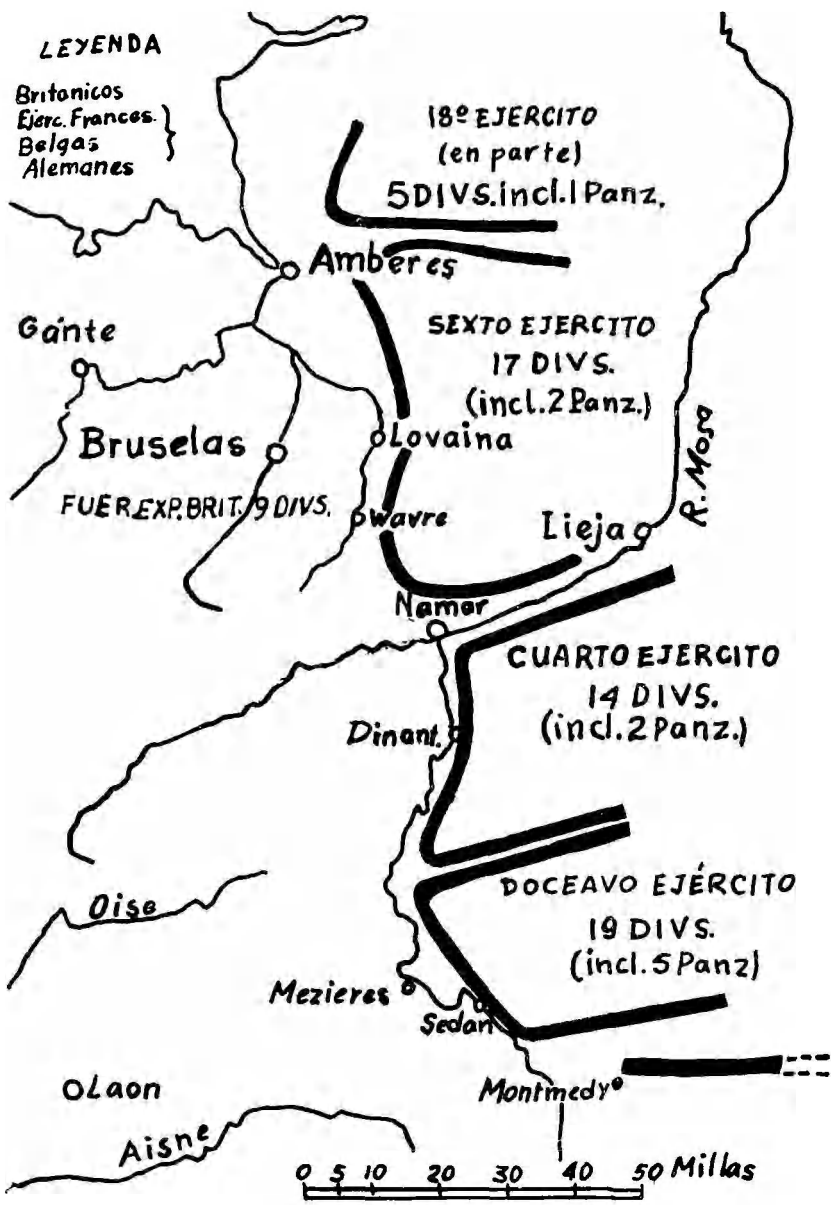


# NORUEGA 1940



- y Bélgica dentro de los planes aliados?
3. ¿Cuál es la relación numérica contra el ejército franco-inglés?
  4. ¿En qué reside la ventaja esencial alemana?
  5. ¿Cuáles son las normas que van a desempeñar un papel determinante en la campaña?
  6. ¿Cuál es la situación de la aviación de los ejércitos aliados?
  7. ¿Cuál la de los alemanes?
  8. ¿Cuál es la situación de la defensa antiaérea de los aliados?
  9. ¿Cuál la situación en carros blindados franco-ingleses?
  10. ¿Cuál la de los alemanes?
  11. ¿Cómo está la defensa anti-tanque aliada?
  12. ¿Cómo la de los alemanes?
  13. ¿Cuáles son otras deficiencias del equipo francés?
  14. Desde el punto de vista de la moral ¿cuál es la situación entre los dos contendientes?
  15. ¿Cuál es el carácter de la línea Sigfrido? (Westwall).
  16. ¿Qué comprende el sistema de la línea Maginot?
  17. ¿Qué se planeó para las fortificaciones del Nordeste y qué ocurrió con los belgas?
  18. ¿Cuál fue la modificación posterior cuando optaron una política neutralista?
  19. ¿Formaban las fortificaciones francesas y belgas un todo coherente?
  20. ¿Cuál es el plan del General Gamelin para septiembre de 1939?
  21. ¿A qué se le ha llamado la "Maniobra Escalda"?
  22. ¿Qué presupone ese plan?
  23. A su vez Hitler, ¿cuáles son los objetivos que formula para su futura campaña del Oeste?
  24. ¿Cuáles son los planes que le presentan los Comandos Superiores?
  25. Actitud belga para mediados de noviembre.
  26. Respuesta y modificación de la "Maniobra Escalda".
  27. ¿Cuál es el plan de maniobra que sugiere el General Von Maistre?
  28. ¿En qué fecha termina por imponer esta maniobra Hitler?
  29. Nueva adición de Gamelin al "Plan Dyle".
  30. ¿En qué consiste en su forma definitiva el plan franco-inglés?
  31. ¿Qué condición debería darse para el éxito de esta maniobra?
  32. ¿Por dónde esperan los aliados el esfuerzo principal enemigo?
  33. ¿Qué debilidad presenta entonces el plan aliado?
  34. Haga la comparación de las dos maniobras finales.
- La Batalla de Bélgica.** (10 de mayo - 4 de junio 1940).
1. ¿Cuáles fueron los riesgos calculados del plan alemán que para su fortuna no se dieron?
  2. Relate brevemente los primeros sucesos en Holanda.
  3. Igual haga con los primeros sucesos en Bélgica.
  4. ¿Cómo se realiza el movimiento franco-inglés?
  5. Describa la situación para los días 14 y 15 de mayo.





FUERZAS CONTENDIENTES EL 13 DE MAYO

6. Describa la situación en las Ardenas del 12 al 14.
7. ¿Cómo se propone el rompimiento en Sedán?
8. ¿Cómo reacciona el Comandante francés ante la amenaza?
9. ¿Por qué resultan ineficaces sus medidas?
10. ¿Cuál es la situación de la reserva?
11. Medidas para el 16 y 17. Razones de su inocuidad.
12. ¿Cuándo se produce el relevo de Gamelin? Conducta del General Weygand.
13. Razones del fracaso de las medidas tomadas por este último.
14. Los contra-ataques de los aliados a partir del 21 de mayo.
15. Conducta de las fuerzas al sur del Río Somme.
16. Consecuencias de la batalla de Bélgica.

#### **La Batalla de Francia y de los Alpes** (5 - 25 de junio de 1940)

1. ¿Cuándo se abre el segundo acto de la Campaña del Oeste?
2. ¿Qué medidas ha tomado el mando francés?
3. ¿Cuál es el plan alemán para esta nueva fase?
4. Describa la iniciación de las operaciones el día 5 de junio.
5. Describa el desarrollo del ataque principal a partir del día 9.
6. Describa los acontecimientos a partir del 11 de junio.
7. Haga un resumen de los sucesos en la campaña con Italia.

8. Haga una comparación entre el empleo del motor en la primera guerra y cómo se hace en esta campaña.
9. ¿Podían los blindados romper en forma fácilmente igual todas las posiciones?
10. ¿Cuáles fueron las dos enseñanzas de la campaña alemana con alcance más duradero?

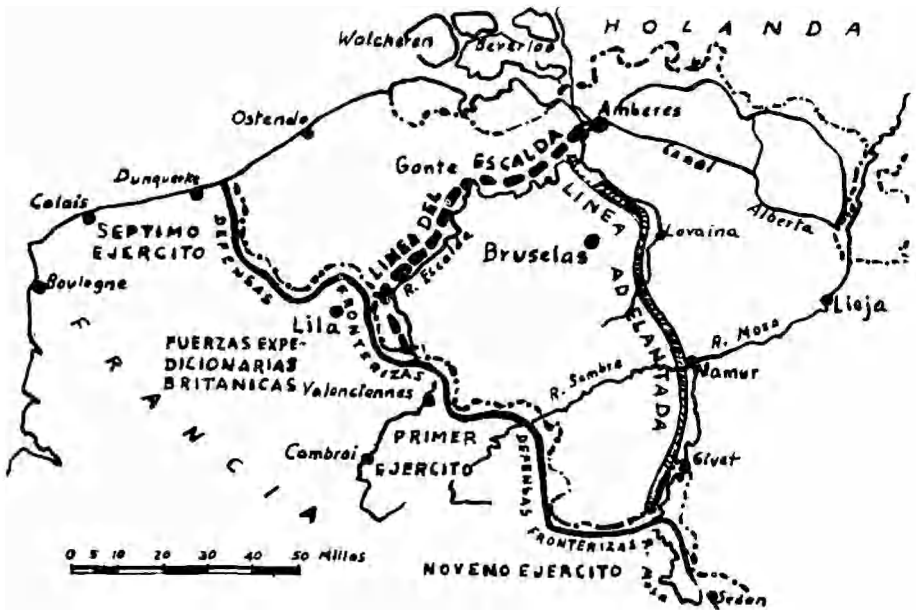
#### **Batalla aérea de Inglaterra.**

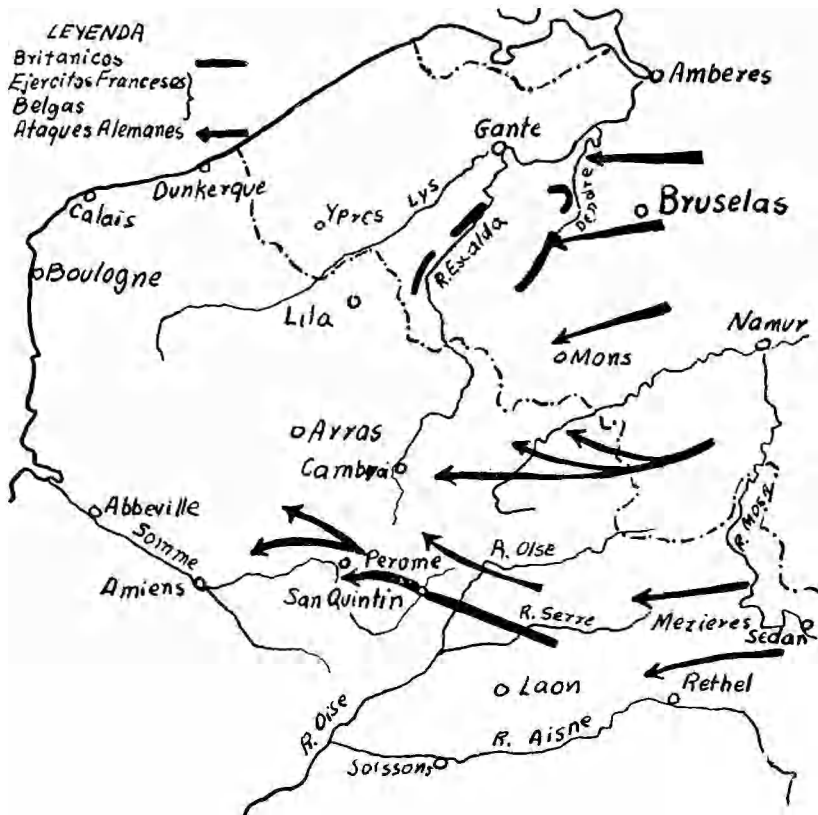
1. ¿Cuál es la conducta de Hitler después de la derrota de Francia?
2. ¿Cuál es la situación militar entre Alemania e Inglaterra?
3. ¿Cuál es la decisión alemana? Ventajas que ella intuye.
4. Señale factores de la resistencia inglesa.
5. ¿Cuáles fueron los objetivos en las distintas fases de la batalla aérea?
6. Razones de la pérdida de la batalla por Alemania.

#### **Las Campañas de Africa Oriental y Africa del Norte.**

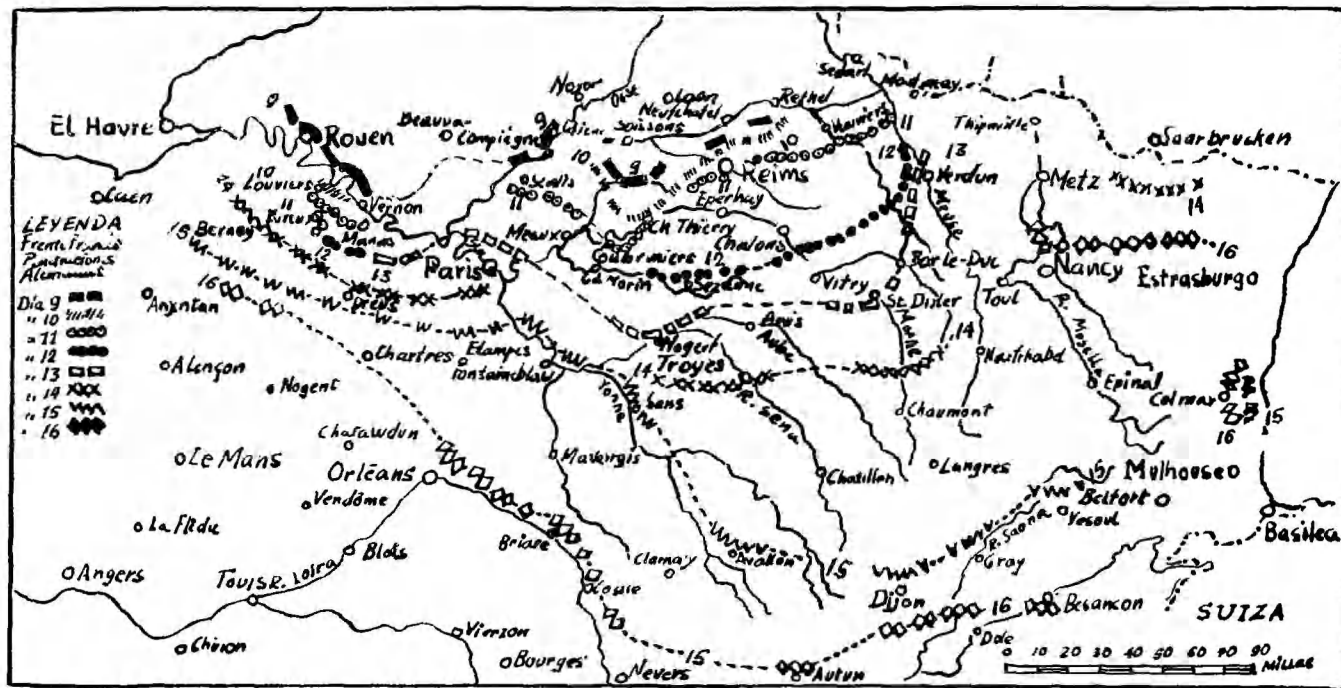
1. ¿Cuál fue la conducta de Mussolini frente a Alemania desde cuando se inició la guerra?
2. ¿Cuáles son las fuerzas italianas y británicas en Africa para 1940?
3. Haga la cronología de las acciones italianas en Africa y los Balcanes el 15 de julio.
4. ¿Cuáles son las características de la guerra en Libia?
5. ¿Cómo se produce la primera ofensiva italiana?

LINEA DEL ESCALDA Y DEL MOSA



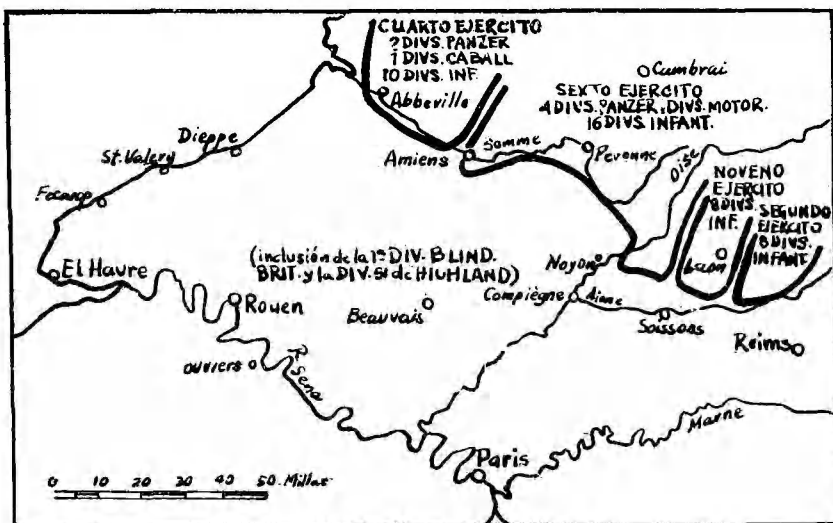


LA SITUACION AL ANOCHECER DEL 18 DE MAYO

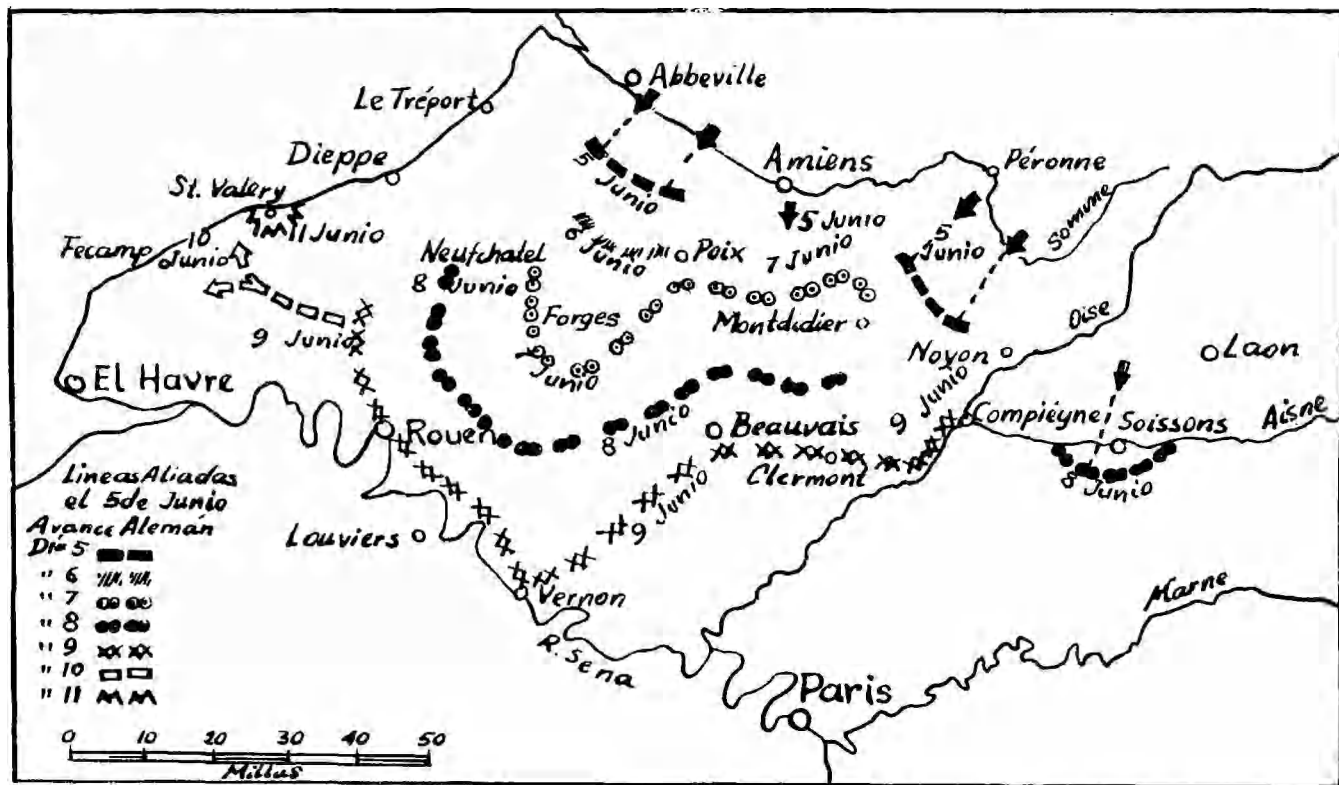


LOS ULTIMOS COMBATES DEL EJERCITO FRANCÉS — Junio 1940





FUERZAS CONTENDIENTES EN EL FLANCO OCCIDENTAL  
 5 DE JUNIO DE 1940

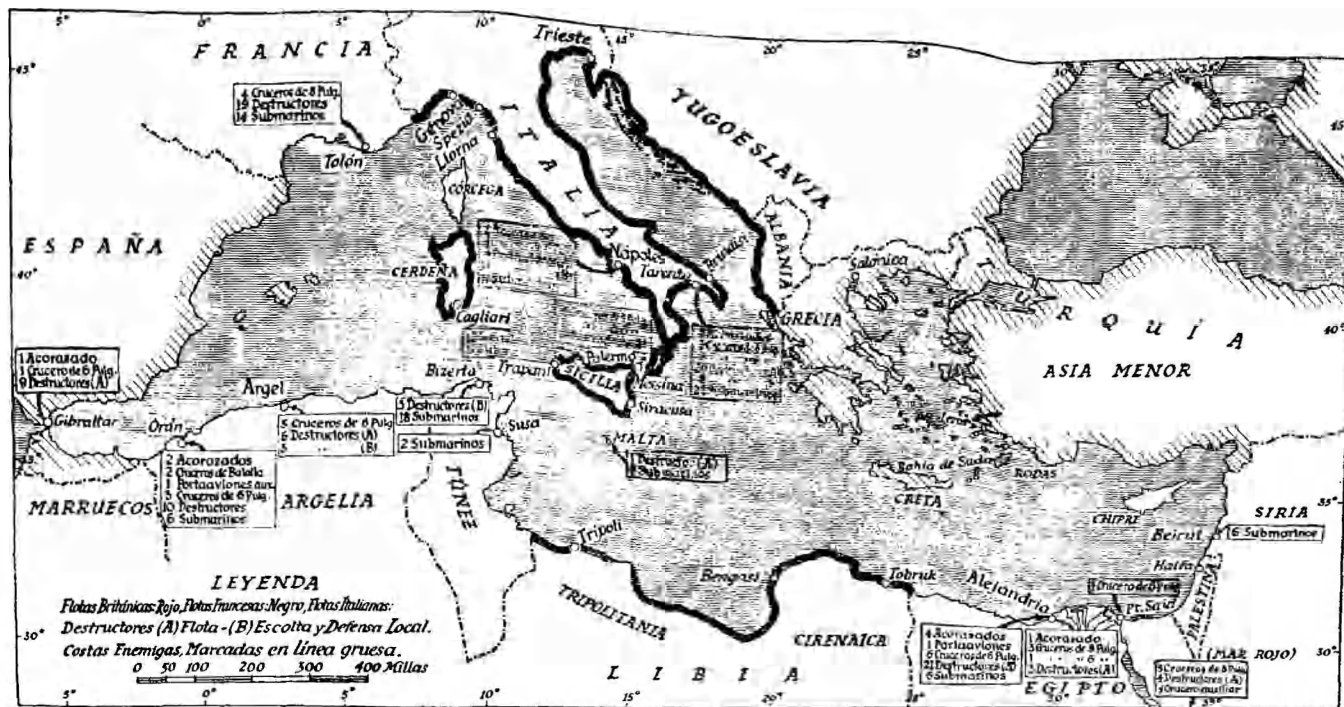


EL AVANCE ALEMÁN 5-9 JUNIO



MOVIMIENTOS DE AVANCE INICIADOS EL 10 DE MAYO

6. ¿Cuándo y cómo se propone la contra-ofensiva inglesa?
7. ¿Cuándo y cómo se produce la primera derrota moral italiana?
8. Resuma las acciones de los ingleses de enero a febrero de 1941 en Cirenaica.
9. ¿Cómo responden los alemanes para respaldar a sus aliados?
10. ¿Qué circunstancias detienen a los ingleses?
11. ¿Cuáles son las conquistas de la ofensiva germano-italiana? (Marzo-abril 1941)
12. La necesidad de asegurar el canal de Suez, ¿a qué obliga a los ingleses?
13. ¿Cómo se completa la reconquista del Africa Nororiental?
14. ¿Cuáles son los tres últimos actos de la guerra de Libia?
15. Sintetice las acciones de la ofensiva inglesa de noviembre.
16. Dé las razones del restablecimiento italiano alemán.
17. Describa la reacción de Rommel a partir del 21 de enero de 1942 y luego a partir del 27 de mayo.
18. Describa la situación a partir del 5 de julio y hasta mediados de septiembre.
19. ¿Cómo derrota Montgomery a Rommel y se pierde la Cirenaica?
20. Dé los antecedentes del desembarco aliado en el Africa del Norte.
21. ¿Cuándo y cómo se producen los primeros desembarcos?
22. ¿Cuál es la actitud de Darleu y su desenlace?
23. Describa la reacción alemana ante estos acontecimientos.
24. Haga la cronología de los acontecimientos en Túnez hasta fines de enero de 1943.
25. Relate la última gran maniobra de Rommel en Africa.



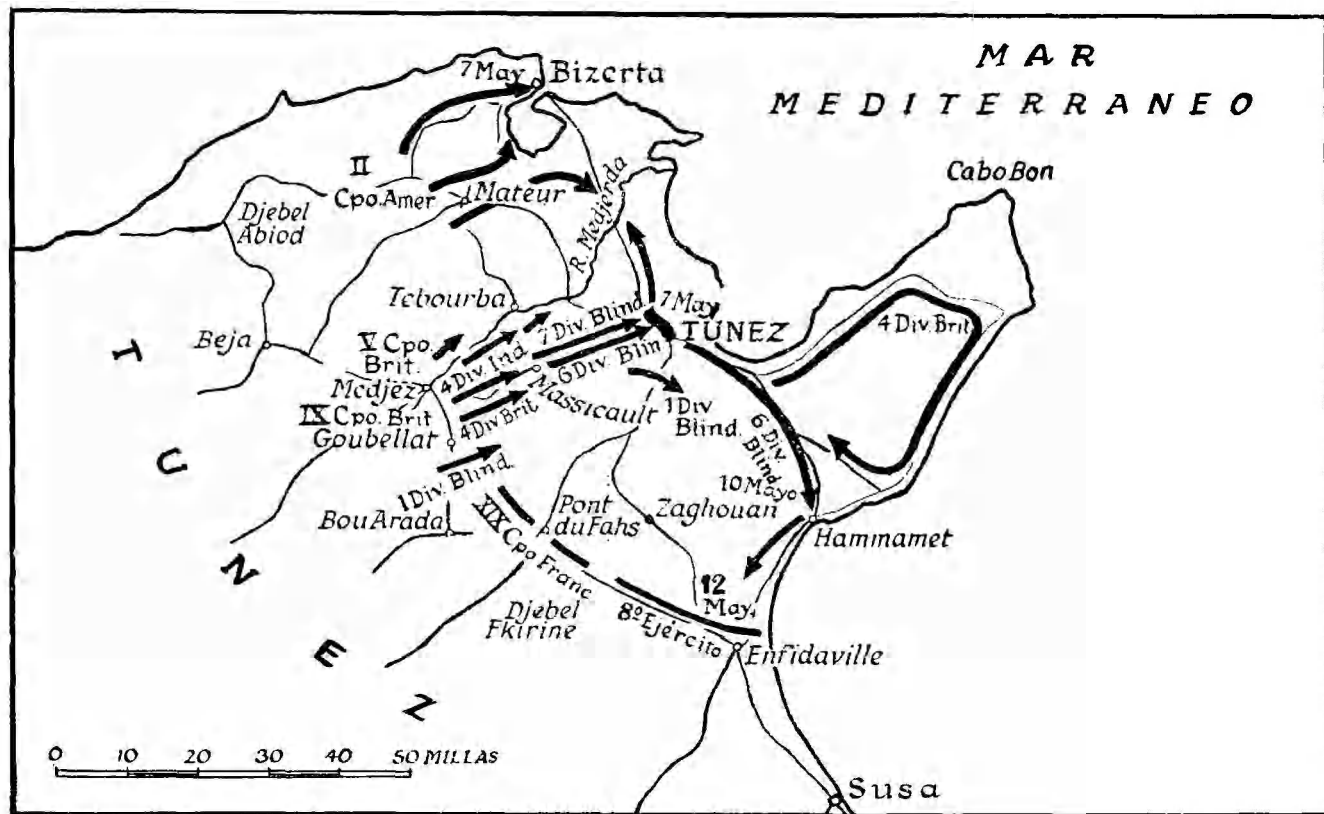
R.C. **DISPOSICIONES DE LAS FLOTAS PRINCIPALES EN EL MEDITERRÁNEO 14 de Junio de 1940.**



EL MEDITERRANEO EN 21 DE JUNIO DE 1941



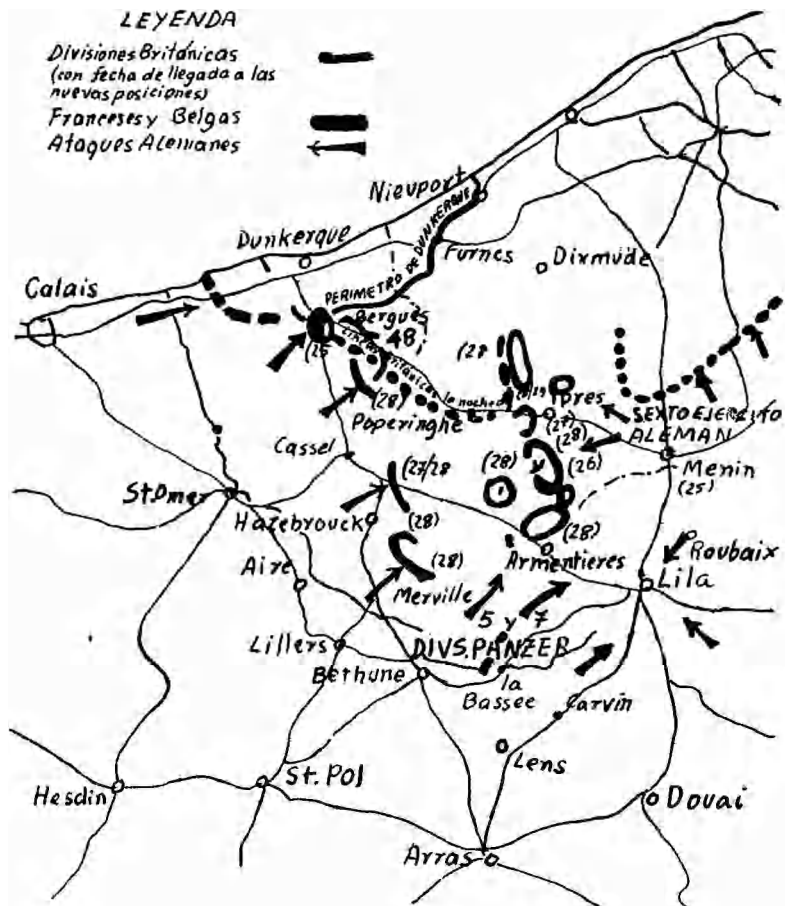
FUERZAS CONTENDIENTES 23 OCTUBRE 1942



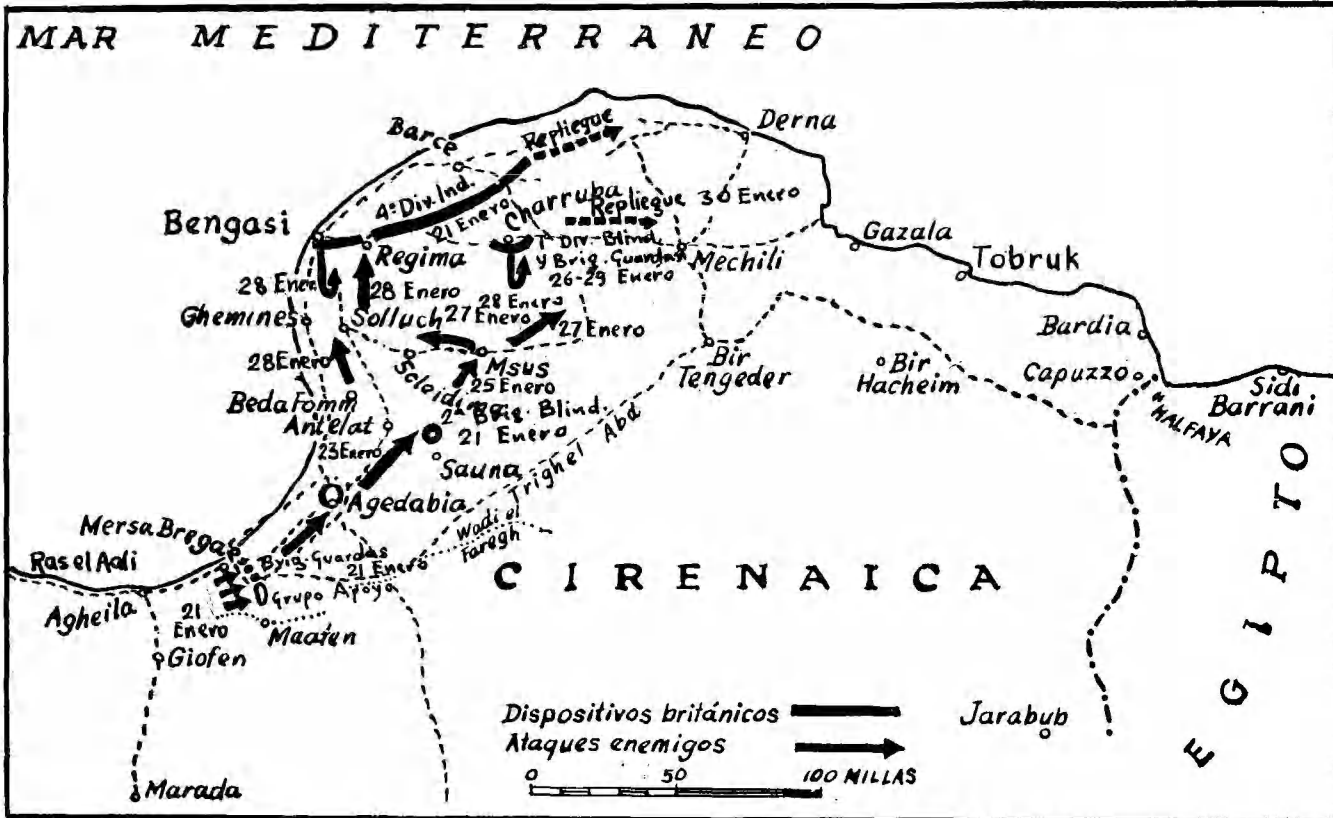
TUNEZ: LA ULTIMA FASE 6-12 MAYO 1943

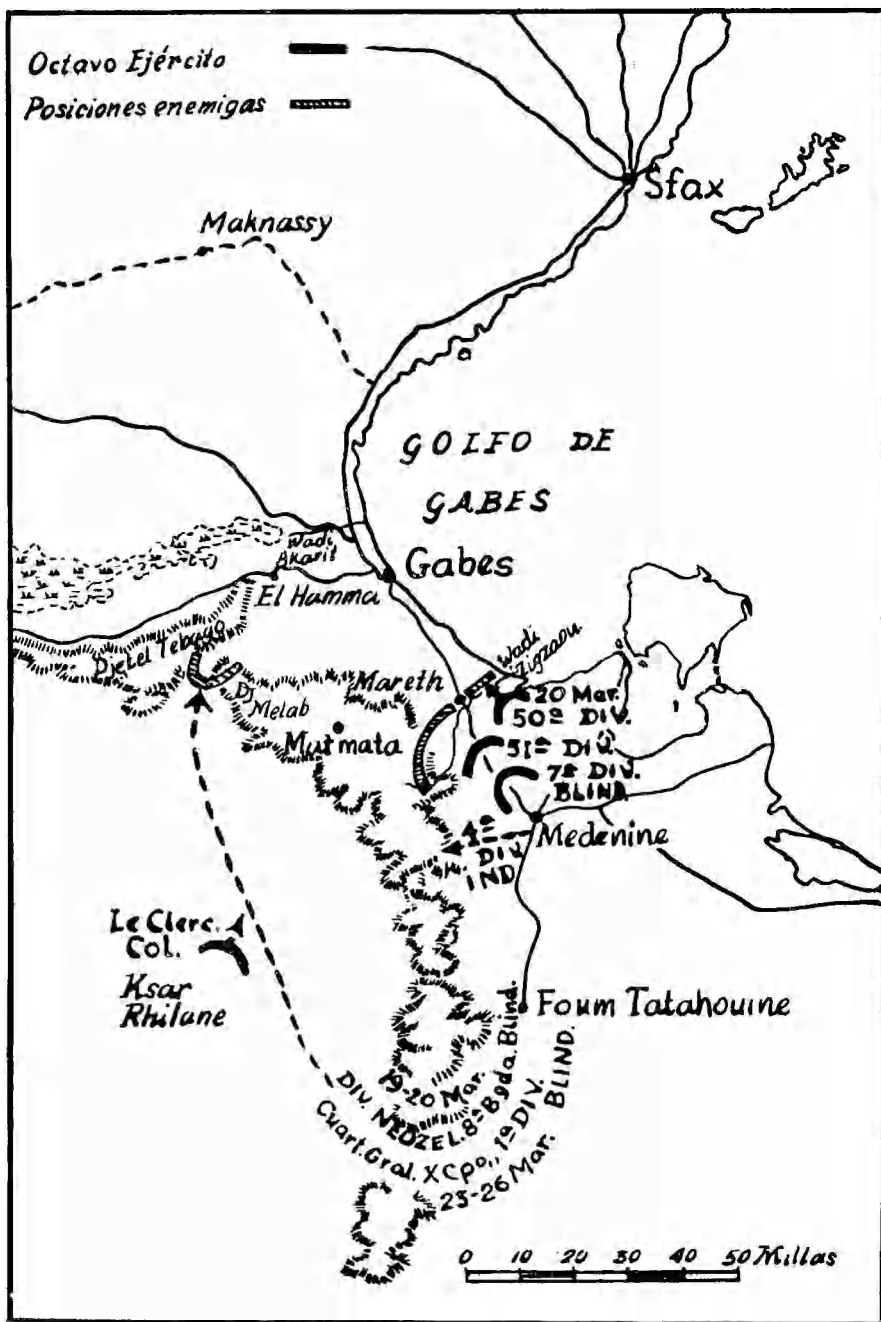


## LA MARCHA HACIA EL MAR



LA SITUACION EL 28 DE MAYO





LA BATALLA DE MARETH

